

SORAKOZÓ!

Számoljuk meg a baromfiudvar lakóit.

Számold meg összesen hány nyuszi, kakas, tehén, malac és ló található a baromfiudvarban, majd add össze, összesen hány állatot számoltál.






Nyuszi

Kakas

Tehén

Malac

Ló



Összesen hány állat van az udvarban?
